

Session 2019

Fonction Publique Territoriale

CONCOURS INTERNE D'AGENT DE MAITRISE TERRITORIAL

***Spécialité : « Hygiène et accueil des enfants des écoles maternelles
ou des classes enfantines »***

Epreuve:

Vérification au moyen de questionnaires ou de tableaux ou graphiques ou par tout autre support à constituer ou à compléter, des connaissances techniques, notamment en matière d'hygiène et de sécurité que l'exercice de la spécialité implique de façon courante.

Durée : 2 heures

Coefficient 2

Consignes à lire avant le commencement de l'épreuve

Vous ne devez faire apparaître aucun signe distinctif dans votre copie, ni votre nom ou un nom fictif, ni votre numéro de convocation, ni signature ou paraphe.
Il est possible de répondre aux questions directement sur le sujet.

Aucune référence (nom de collectivité, nom de personne, ...) autre que celles figurant le cas échéant sur le sujet ou dans le dossier ne doit apparaître dans votre copie.

Seul l'usage d'un stylo noir ou bleu est autorisé (bille, plume ou feutre). L'utilisation d'une autre couleur, pour écrire ou souligner sera considérée comme un signe distinctif, de même que l'utilisation d'un surligneur.

Le non-respect des règles ci-dessus peut entraîner l'annulation de la copie par le jury.

Les feuilles de brouillons ne seront en aucun cas prises en compte.

Le sujet comporte 6 pages y compris celle-ci.

1- Que signifie le sigle PPMS ? à quoi sert-il ? (2 points)

2- Que signifie le sigle PAI, à quoi sert-il ? (2 points)

3- Macéo, 4 ans, est tombé dans la cour en jouant au foot et s'est fait une écorchure bénigne au genou. L'enseignante vous le confie. Comment réagissez-vous ? (1 point)

4- Vous préparez un atelier pour que chaque enfant réalise un masque. Vous avez 15 enfants. Il vous faut 15 cm d'élastique par masque, une feuille A3 cartonnée pour y découper 4 masques. Quelle quantité de matériel préparez-vous ? (2 points)

5- Un enfant saigne du nez, comment réagissez-vous ? (1 point)

6- Un enfant vient vous voir avec une bosse sur le front. Comment réagissez-vous ? (1 point)

7- Un enfant fait pipi dans sa culotte. Comment réagissez-vous ? (1 point)

8- Dans le cadre d'un PEDT , quel est le taux d'encadrement pour les enfants de moins de 6 ans, en accueil de loisirs extrascolaire et en garderie périscolaire? (1 point)

9- L'alarme incendie se déclenche pendant que vous surveillez la sieste. Comment réagissez-vous ? (1,5 points)

10- Qui est représenté dans le conseil d'école ? (1 point)

11- En dehors de vos heures de travail, vous rencontrez un parent qui vous pose des questions sur le travail de classe. Comment réagissez-vous ? (1 point)

12- Un enfant est allergique au gluten, que ne peut-il pas manger ? (1,5 points)

- Des œufs
- Des cordons bleus
- Des cornets de glaces
- Du miel

13- Lors d'un atelier en classe, vous constatez qu'un enfant a des poux. Comment réagissez-vous ? (0,5 point)

14- Le matin, un enfant pleure en quittant sa maman. Comment réagissez-vous ? (0,5 point)

15- Au-delà de combien d'heures de travail consécutives, une pause est- elle obligatoire ? Quelle est sa durée minimale ? (1 point)

16- Que signifie le sigle EPI ? Citez 4 EPI (2points)

17- Que signifie le sigle EPC ? Citez 4 EPC (2 points)

18- Expliquez la technique de nettoyage dite «des 2 seaux » ? (2,5 points)

19- Citez les 4 actions du cercle de Sinner ? (1 point)

20- Que signifie le sigle PH ? Indiquez sur le tableau les zones de PH acides, neutres et alcalins (2 points)

PH :

1	2	3	4	5	6	7	8	9	10	11	12	13	14

21- Quelles sont les différentes sources d'information à votre disposition concernant un produit chimique ? (1,5 points)

22- Pour réaliser le lavage des sols, vous préparez 5 litres de solution détergente à base d'un produit à diluer à 2%. Quelle quantité de produit allez-vous utiliser ? (1 point)

.....

.....

.....

23- Où doit-on stocker les produits d'entretien ? (1 point)

.....

.....

.....

24- Dans quel ordre faut-il procéder, pour le nettoyage d'une classe maternelle? (1 point)

.....

.....

.....

25- Que signifie le sigle CHSCT ? (1 point)











.....

.....

.....

26- Remplissez le tableau : (5 points)

- + compatibles
- X Incompatibles
- O compatibles sous conditions particulières

27- Que signifient les pictogrammes ci-dessous : (2 points)









**Agent de maîtrise spécialité hygiène et accueil des enfants des écoles maternelles
ou des classes enfantines**

- 1- Que signifie PPMS ? à quoi sert-il ? (2 points)

Plan Particulier de Mise en Sécurité (1 point)

Il a pour but : de faire face aux risques majeurs extérieurs aux locaux, d'origine naturelle, technologique ou humaine.

De mettre en place une organisation interne à l'établissement scolaire permettant d'assurer la sécurité des élèves et des personnels en attendant l'arrivée des secours.

(1 point)

- 2- Que signifie PAI, à quoi sert-il ? (2 points)

Projet d'Accueil Individualisé (1 point)

Le PAI est un document écrit qui concerne les enfants atteints de troubles de la santé (pathologies chroniques, allergies, intolérance alimentaire) qui permet de préciser les adaptations à apporter à la vie de l'enfant sur tous ces lieux d'accueil fréquentés (scolaire, périscolaire et extrascolaire). (1point)

- 3- Macéo, 4 ans, est tombé dans la cour en jouant au foot et s'est fait une écorchure bénigne au genou. L'enseignante vous le confie. Comment réagissez-vous ? (1 point)

Vous mettez des gants à usage unique, puis à l'aide d'une compresse vous nettoyez la plaie avec de l'eau et du savon neutre, du milieu vers l'extérieur de la plaie, ensuite vous posez un pansement.

Ne jamais utiliser de désinfectant ou d'antiseptique.

- 4- Vous préparez un atelier pour que chaque enfant réalise un masque. Vous avez 15 enfants, il vous faut 15 cm d'élastique par masque, une feuille A3 cartonnée pour y découper 4 masques. Quelle quantité de matériel préparez-vous ? (2 points)

15 enfants X 15 cm d'élastique = 2,25 m d'élastique

15 masques à réaliser soit 4 masques par feuille A3,

15 masques /4 feuilles = 3,75 feuilles, j'ai donc besoin de 4 feuilles A3

- 5- Un enfant saigne du nez, comment réagissez-vous ? (1 point)

Vous rassurez l'enfant car la vue du sang peut l'inquiéter et lui proposer de s'asseoir, vous mettez des gants à usage unique, vous demandez à l'enfant de se moucher doucement et de pencher la tête vers l'avant, puis vous pressez délicatement la narine qui saigne.

6- Un enfant vient vous voir avec une bosse sur le front. Comment réagissez-vous ? **(1 point)**

**Vous mettez un peu de glace dans un gant ou une compresse sur la bosse, vous surveillez.
Ne jamais appliquer de pommade.**

7- Un enfant fait pipi dans sa culotte. Comment réagissez-vous ? **(1 point)**

Vous rassurez l'enfant, ce n'est pas grave ; et à l'abri des regards vous l'aidez à se changer

8- Quel est le taux d'encadrement pour les moins de 6 ans, en Accueil de loisirs extrascolaire et en garderie périscolaire dans le cadre d'un PEDT ? **(1 point)**

1 pour 8 en extrascolaire

1 pour 14 en périscolaire

9- L'alarme incendie se déclenche pendant que vous surveillez la sieste. Comment réagissez-vous ? **(1,5 points)**

Vous réveillez les enfants et vous les faites sortir avec leur duvet ou un plaid en direction du point de rassemblement prévu par le protocole d'intervention.

10- Qui est représenté dans le conseil d'école ? **(1 point)**

Le conseil d'école est composé : du directeur de l'école, des enseignants de l'école, des représentants des parents d'élèves, du Maire, de l'adjoint aux affaires scolaires et des ATSEMS (voix consultative pour les sujets les concernant).

11- En dehors de vos heures de travail, vous rencontrez un parent qui vous pose des questions sur le travail de classe. Comment réagissez-vous ? **(1 point)**

Vous lui expliquez que vous ne pouvez pas lui répondre car vous avez une obligation de réserve et lui conseillez de prendre rendez-vous avec l'enseignant.

12- Un enfant est allergique au gluten, que ne peut-il pas manger ? **(0 ou 1,5 points)**

- Des œufs
- **Des cordons bleus**
- **Des cornets de glace**
- Du miel

13- Lors d'un atelier en classe, vous constatez qu'un enfant a des poux. Comment réagissez-vous ? **(0,5 point)**

Vous prévenez l'enseignant pour qu'il en informe la famille.

Une information collective suivra dans le cahier de liaison.

14- Le matin, un enfant pleure en quittant sa maman. Comment réagissez-vous ? (0,5 point)

Vous vous mettez à sa hauteur pour le rassurer et tranquillement vous l'amenez vers des ateliers calmes avec ses copains et copines.

15- Au-delà de combien d'heures de travail consécutif, une pause est obligatoire ? Quelle est sa durée ? (1 point)

Au-delà de 6 heures de travail consécutif, une pause de 20 mn est obligatoire.

16- Que signifie EPI ? Citez 4 EPI (2points)

EPI : Equipement de protection individuelle (1 point)

EPI : gants, lunettes, sabots de sécurité, tablier, blouse, bouchons d'oreille, masque, casque... (0,25 point/réponse)

17- Que signifie EPC ? Citez 4 EPC (2 points)

EPC : Equipement de protection collective (1point)

EPC : ventilation, insonorisation, sol anti-dérapant, affichage, balisage, barrières, filet anti-chute, déviation... (0,25 point/réponse)

18- Quelle est la technique de nettoyage dite des 2 seaux ? (2,5 points)

Le seau rouge sert au rinçage des franges sales du balai, le seau bleu (eau tiède et détergent dilué) sert au rinçage des franges propres. (1 point)

- **Tremper les franges dans le seau bleu**
- **Essorer à l'aide de la presse disposée sur le seau rouge**
- **Laver le sol en décrivant des 8 et en se plaçant toujours sur la partie sèche du sol**
- **Rincer les franges dans le seau rouge et essorer au-dessus du seau rouge**
- **Replonger les franges dans le seau bleu**
- **Changer l'eau des 2 seaux aussi souvent que nécessaire**

(1,5 point pour le descriptif)

19- Citez les 4 actions du cercle de Sinner ? (1 point)

- **Action chimique**
- **Action mécanique**
- **Action de temps**
- **Température**

0,25 point/réponse

20- Que signifie PH ? Indiquez sur le tableau les zones de PH acides, neutres et alcalins (2 points)

PH : Potentiel Hydrogène (1 point)

1	2	3	4	5	6	7	8	9	10	11	12	13	14
PH Acides					Neutres			Alcalins					

(1 point)

21- Quelles sont les différentes sources d'information à votre disposition concernant un produit chimique ? (1,5 points)

- **L'étiquette**
- **La fiche technique**
- **La fiche de données de sécurité**

(0,5 point/réponse)

22- Pour réaliser le lavage des sols, vous préparez 5 litres de solution détergente à base d'un produit à diluer à 2%. Quelle quantité de produit allez-vous utiliser ? **(1 point)**

5 litres X 2% = 5 X 0,02 = 0,1 litre de produit

23- Où stocke-t-on les produits d'entretien ? **(1 point)**

Dans un local facile d'accès avec un sol adapté pour le nettoyage (carrelage), équipé d'une ventilation et fermé à clef, ou une armoire fermée à clef.

24- Pour nettoyer une classe maternelle, dans quel ordre faut-il procéder ? **(1 point)**

- **Dépoussiérage humide**
- **Balayage humide**
- **Lavage du sol**











25- Que signifie CHSCT ? **(1 point)**

Comité d'Hygiène, de Sécurité et des Conditions de Travail

26- Remplissez le tableau : (5 points)

- + compatibles
- X Incompatibles
- O compatibles sous conditions particulières

0,25 point/réponse

					
		X	X	+	+
	X		X	O	O
	X	X		+	+
	+	O	+		+
	+	O	+	+	

27- Que signifient les pictogrammes ci-dessous : (2 points)

(0,5 point/ réponse)



Produit dangereux pour la santé



Polluant pour l'environnement, les organismes aquatiques



Ce produit est corrosif



Gaz sous pression